


SOSYAL BİLGİLER

5. SINIF



BRANŞ DENEMELERİ

PISA-TIMSS

MANTIK MUHAKEME

SÖZEL YETENEK

AKIL YÜRÜTME

GÖRSEL OKUMA

30 DENEME
300 SORU



Mehmet GÜMÜŞ
Ümit KILIÇ


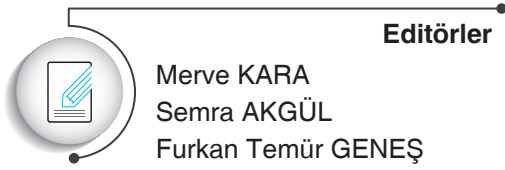
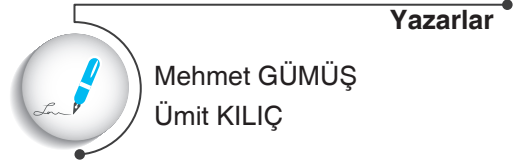
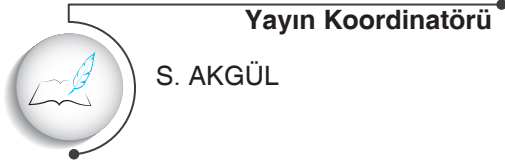
İSLEYEN
Z E K A

Copyright ©

Bu kitabın her hakkı yayınevine aittir.

Hangi amaçla olursa olsun, bu kitabın tamamının ya da bir kısmının, kitabı yayınlayan yayınevinin önceden izni olmaksızın elektronik, mekanik, fotokopi ya da herhangi bir kayıt sistemi ile çoğaltılması, yayınlanması ve depolanması yasaktır.

ISBN: 978-605-250-351-5
220822-B1



www.dijitalim.com.tr

"Dijitalim" öğrenci veya öğretmen uygulamasını indirerek bütün soruların video çözümlerine ulaşabilirsiniz.



www.dijitalim.com.tr

DİJİTAL EĞİTİM PORTALIMIZA GİRİNİZ.

ÖĞRETMEN ÜYELİĞİ SEÇİMİ İLE SİSTEME ÜYELİK FORMUNU DOLDURUNUZ. SİSTEME GİRİŞ YAPARAK DİJİTAL İÇERİKLERİMİZİ İSTEDİĞİNİZ YERE İNDİREBİLİRSİNİZ. İNTERNETE BAĞLI OLSUN VEYA OLMASIN DİLEDİĞİNİZ PLATFORMLARDA İÇERİKLERİMİZİ KULLANABİLİRSİNİZ.

Test ve deneme oluşturmak için
70.000 soruluk
"SORU HAVUZU"muzdan
yararlanabilirsiniz.

AKILLI TAHTAYA
UYUMLU

TAMAMEN ÜCRETSİZ İÇERİK

Konu Anlatımları
Benzer Sorular
Online Testler
Online Denemeler

İŞLEYEN ZEKA YAYINLARI

Ostim Mahallesi 1207. Sokak 3/ C-D Ostim / Yenimahalle / ANKARA

Tel: (0312) 395 13 96 Fax: (0312) 394 10 04





Değerli Öğretmen Arkadaşlarım ve Sevgili Öğrenciler,

Eğitim öğretim sürecinde öğrencilerimiz çeşitli sınavlarla karşılaşmaktadır. Öğrencilerimizin bu süreci başarılı bir şekilde tamamlamalarında onlara destek olmak amacıyla “İşleyen Zeka Yayınları” olarak uzman bir kadroyla çalışmalarımızı sürdürüyoruz.

Yayın çalışmalarımızı Talim ve Terbiye Kurulu Başkanlığının yayımladığı öğretim programlarına göre hazırlıyoruz. İçeriklerimizi hazırlarken kazanım eksenli çalışıyor, sorularda tüm kazanımları işliyoruz. Kazanım dışında kalan içeriklere ve sorulara yayınlarımızda yer vermiyoruz. Müfredat değişikliklerini anında takip ederek ve yayınlarımızı sürekli güncelleyerek öğrencilere her zaman yeni müfredata göre sunuyoruz.

“İşleyen Zeka Yayınları” olarak yaptığımız ihtiyaç analizleriyle öğrencilerin farklı şekilde oluşan ihtiyaçlarını gidermek için ürün yelpazemizde birbirinden farklı çalışmalara yer veriyoruz. Bu kapsamda “soru bankaları, branş denemeleri, paket denemeler ve kurumsal denemeler” gibi farklı yayınlarla karşınıza çıkıyoruz.

Eleştiriyle bizi yönlendiren ülkemizin seçkin sosyal bilgiler öğretmeni arkadaşlarımız Meral ARAS, Yaser İFLAZOĞLU, İmdat ÇELİK, Hakan Can TERZİBAŞI, Sibel BAYTAK, Bülent ÖZEN, Serdar ÇETİNKAYA, Eda GÖKOĞLU, Şükrü ADIGÜZEL ve Emine YILMAZ'a teşekkürlerimizi sunuyoruz.

“İşleyen Zeka Yayınları”nın size en uygun ürününü seçerek sizler de başarıya emin adımlarla koşabilirsiniz. Başarı dileklerimizle...

S. AKGÜL
Yayın Koordinatörü

1.

GAZETE

Rize genelinde devam eden sağanak yağışlar nedeniyle dereler taşıdı, şehir merkezinde birçok yol, bina ve iş yerinin giriş katını su bastı. Yetkiler 1 kişinin kayıp olduğunu açıklarken, tarım arazileri ve yollarda maddi hasar oluştu. Çamlıhemşin, Ardeşen ve Fındıklı ilçelerinde yağış dolayısıyla bazı dereler taşıdı, farklı bölgelerdeki dağ yamaçlarında heyelan meydana geldi.



Rize Valiliği tarafından yapılan açıklamada 9 kişinin sel sularından kurtarıldığı ve 2 köyün de boşaltıldığı bildirildi. Karadeniz'in farklı yerlerinde daha fazla yağış olmasına rağmen o bölgelerde sel meydana gelmemesinin sebebini yerleşmenin daha planlı yapılması olarak gösterdiler. Rize'nin planlı yapılaşmada geri kaldığı ifade edildi.



Gazete haberinde verilen olay ve sonuçlarına bakıldığında aşağıdakilerden hangisi söylenebilir?

- A) Sel olayının meydana gelmeden önlenebileceği
- B) Yağışların insanların hayatında sadece olumsuz sonuçlara neden olduğu
- C) Olayların birden fazla insanı etkileyerek farklı sonuçlara neden olduğu
- D) Sel olayının nerede meydana gelirse gelsin aynı sonuçlara neden olabileceği

İşleyen Zeka Yayınları

2. Merhaba Ben Mine. Sosyal bilgiler dersinde öğretmenimiz bize Türkiye haritasını çizdiriyor. Böylece illerin yerlerini öğrenmemiz kolaylaşıyor. Geçen dersimizde bir sorun ile karşılaştığımızda neler yapmamız gerektiğini öğrendik. Ayrıca bu sorunu çözebilmek için dilekçe yazmayı da öğrenmiş olduk. Son olarak öğrendiğimiz ilk çağ medeniyetlerine ait "fibula" denilen bir çengelli iğnenin ne işe yaradığı ile ilgili bilgiydi.

Verilen bilgilere bakıldığında aşağıdakilerden hangisinin sosyal bilgiler dersinin faydalarından biri olduğu söylenemez?

- A) Bireylerin kişisel sorunlarını çözmesinde yardımcı olur.
- B) Kişinin fiziki etkinliklerini düzenlemesinde yardımcı olur.
- C) Bireyin ülkesini ve çevresini tanımasını sağlar.
- D) Öğrencilerin tarihi bilgileri edinmesini sağlar.

3. Sorumluluk kişinin kendisine ve başkalarına karşı olan yükümlülüklerini zamanında yerine getirilmesidir. Çocuklar, içerisinde bulunduğu aile grubunda birtakım sorumluluklara sahiptir.

Buna göre aşağıdakilerden hangisi 5. sınıf öğrencisi Melek'in evdeki sorumluluklarından biri olamaz?

- A) Ev işlerinde anne ve babasına yardımcı olmak
- B) Bir işte çalışarak eve ekonomik olarak katkıda bulunmak
- C) Evde belirlenen kurallara uymak
- D) Odasını toplamak

4.



Verilen görsel ve bilgiler incelendiğinde,

- Asya ve Orta Doğu ülkelerinden göç eden çocuk sayısı, diğer kıtalarda göç eden çocuk nüfusundan daha fazladır.
- Mülteci konumundaki çocukların büyük çoğunluğu eğitim hakkını kullanamamaktadır.
- Göç etmek zorunda kalan çocukların temel haklarının çoğu kısıtlanmaktadır.

yargılarından hangilerine ulaşılabilir?

- A) Yalnız I B) I ve III C) II ve III D) I, II ve III

İşleyen Zeka Yayınları

5. Ayşe, işe yürüyerek gidip gelmektedir. Fakat trafiğin çok yoğun olduğu ve yaya geçidinin olmadığı cadde- den karşıya geçmek istediğinde sıkıntı yaşamaktadır. Bu durum Ayşe için tehlikeli olduğu kadar sürücüler için de büyük risk oluşturmaktadır.

Metindeki olay örgüsü dikkate alındığında aşağıdakilerden hangisi söylenebilir?

- A) Bir olayın sadece sonucuna bakılmalıdır.
B) Olaylar sadece çocukları etkiler.
C) Bir olay birden fazla kişiyi etkileyebilir.
D) Tüm olaylar aynı sebeple ortaya çıkar.

6. Türkiye’de kişi başına düşen plastik tüketimi son 3 yılda % 11,5 artışla 2018’de 90,1 kg’a yükselirken uzmanlar plastik atıkların çevresel ve ekonomik etkilerinin geri dönüşümlü önüne geçilebileceğini belirtiyor. Bu gelişme üzerine “Çevre Kanunu” kapsamında 1 Ocak 2019 tarihi itibarıyla yapılan yasal bir düzenleme ile naylon alışveriş poşeti 0,25 kuruş olarak ücretlendirildi. Naylon poşet yerine file ve bez torba üreten firmalar halk tarafından kabul gördü. İnsan sağlığı ve çevre açısından olumlu bir gelişme olarak görülen bu olaya tepki gösteren vatandaşlarımız da oldu. 2019’un 6 aylık verilerine bakıldığında bir önceki döneme oranla plastik tüketim oranında azalma görülmüştür.

Bu metin incelendiğinde aşağıdaki yargılardan hangisine ulaşılamaz?

- A) Plastik kullanımındaki artışın yasal bir düzenlemeye neden olduğuna
 B) Türkiye’de kişi başına düşen plastik kullanımının her geçen gün artmakta olduğuna
 C) Naylon poşetin ücretlendirilmesine gelen olumsuz tepkiler üzerine geri adım atıldığına
 D) Türkiye’nin çevre bilinci konusunda halkın desteğini alarak gözle görülür bir başarı sağladığına

İşleyen Zeka Yayınları

7. Sosyal bilgiler dersinin bireye olan katkılarına örnekler verilmiştir:

- | | |
|---|--|
| a | Yaşamında karşısına çıkabilecek sorunları çözecek şekilde hayata hazırlar. |
| b | Yaşadığı olaylardan nasıl bir ders çıkarması gerektiği konusunda bilinçlendirir. |
| c | Yaşadığı toplumla barışık olmayı ve empati kurmayı öğretir. |
| d | Kendi dil, kültür, tarih ve coğrafyasının özelliklerini öğretir. |

Sosyal bilgiler dersinin sağladığı katkılarla,

- I. Emine, genel ağ üzerinden yazışırken kullandığı kelimelerin yazılışına dikkat eder.
 II. Serdar, Suriye’de yaşanan iç savaştan ötürü ülkemize sığınan mültecilere karşı çok anlayışlı davranır.
 III. Hatice ve Mehmet, mahallede toplanmayan çöplerin kaldırılması için belediyeye dilekçe yazarak bu tarz olayların yaşanmaması için işin takipçisi olacaklarını belirtirler.

numaralandırılmış davranışlar eşleştirildiğinde aşağıdakilerden hangisi doğru olur?

	I	II	III
A)	d	b	a – c
B)	a	d	b – c
C)	a	b – c	b – c
D)	d	c	a – b

8.



Denizciler pusula bulunmadan önce okyanuslarda kaybolmamak için kıyıları takip ediyorlardı. Pusulanın bulunmasıyla birlikte uzak yerlere yolculuk etmeye başladılar. Bu yolculuklar sonucunda yeni kıtalar keşfettiler. Keşfedilen yerlerde bulunan farklı ürünler dünyanın çeşitli yerlerine götürüldü. Örneğin Amerika'da yetişen patates ve domates gibi ürünler dünyanın birçok yerinde yetiştirilmeye başlandı.

Bu metindeki gelişmelere bakıldığında olayların hangi özelliği üzerinde durulduğu söylenebilir?

- A) Bir olayın sadece bir sebebi vardır.
- B) Olaylar ortaya çıktıkları zamana göre değerlendirilmelidirler.
- C) Bir olayın birden fazla sebep ve sonucu olabilir.
- D) Yaşanan olay sadece olayı yaşayan kişileri etkiler.

İşleyen Zeka Yayınları

9. Sosyal bilgiler eğitimi alan bir öğrenci aşağıda verilen davranışlardan hangisini yapmaz ?

- A) Toplu taşıma araçlarına bindiğinde yaşlı, gazi, hamile ve engelli vatandaşlarımıza yer vermesi gerektiği bilir ve öyle davranır.
- B) Alışveriş yaptıktan sonra mutlaka alışveriş fişini alır.
- C) Toplumda farklı özelliklere sahip bireylerin olduğunu bilir ve onlara gereken hassasiyeti gösterir.
- D) Trafik kurallarının bazı durumlarda ihlal edilebileceğini düşünür.

10. I. Ödevlerini yapmak
II. Hastaları tedavi etmek
III. Güvenliği sağlamak

Yukarıda verilen davranışlar sırası ile hangi rolleri gerektirir?

	I	II	III
A)	Öğretmen	Doktor	İtfaiyeci
B)	Öğrenci	Doktor	Polis
C)	Anne	Hemşire	Avukat
D)	İzci	Mühendis	Doktor



1.



Almanya'da yaşayan Emine Hanım, memleketinde hazineden kiraladığı arazide kendi imkânlarıyla kurduğu barınakta yaklaşık 300 sahihsiz köpeğe kol kanat geriyor. Barınakta bakımı ve tedavisi yapıp kısırlaştırılan köpekleri yeniden doğaya salmayı planlayan Emine Hanım, daha sonra bu hayvanların sokakta yiyecek bulmakta zorlandığını ve kimi zaman şiddete uğradığını gördü. Emine Hanım bunun üzerine topladığı tüm köpekleri barınakta beslemeye başladı. Barınaktaki hayvan sayısı her geçen gün artarak 300'e yaklaştı.



Emine Hanım'ın yaptığı faaliyetle ilgili;

- I. Etkin vatandaş olarak görev üstlenmiştir.
- II. Yaptığı faaliyetlerden maddi gelir elde etmiştir.
- III. Toplumsal bir soruna karşı duyarlı davranmıştır.

yargılarından hangilerine ulaşılabilir?

- A) Yalnız I B) I ve II C) I ve III D) II ve III

İşleyen Zeka Yayınları

2. Ayşe, annesi ile alışverişe gitmişti. Annesi alışveriş merkezinden ihtiyaçlarını alırken Ayşe'nin aklına daha önce gittikleri mahalle pazarı geldi. Geçen yıl tüm ihtiyaçlarını oradan alıyorlardı. Ancak annesi artık mahalle pazarı yerine alışveriş merkezini tercih ediyordu. Ayşe, annesine bunun nedenini sorduğunda annesi ona, alışveriş merkezlerinden her türlü alışverişini yapabildiklerini ve daha eğlenceli vakit geçirdiklerini söyledi.

Ayşe'nin yaşadığı bu olay aşağıdaki durumlardan hangisinin kanıtıdır?

- A) Zaman içerisinde alışveriş kültüründe değişimlerin yaşandığının
- B) Kültürel özelliklerin korunduğunun
- C) Kültürel özelliklerin değişime kapalı olduğunun
- D) Mahalle pazarı kültürünün günümüzde yok olduğunun

3. Tarih öncesi devirler insanların kullandıkları malzeme türüne göre taş ve maden devri olarak ayrılırken, tarihi devirler insanlığı etkileyen önemli olayların gerçekleşmesi ile birbirinden ayrılmıştır. Tarihi devirlerin başlaması ise bilginin kaydedilmesi ve sonraki nesillere aktarılabilmesini sağlayan bir gelişme ile sağlanmıştır.

Buna göre ilk çağ uygarlıklarının tarihî devirlere geçmelerinde;

- I. Sümerlerin yazıyı icat etmeleri,
- II. Lidyalıların parayı icat etmeleri,
- III. Urartuların mezarlarını oda şeklinde yapmaları

gelişmelerinden hangilerinin katkısı olmuştur?

- A) Yalnız I B) Yalnız II
C) I ve II D) I ve III

4. Murat'ın ailesi şehrin dışındaki bir mahallede yaşıyordu. Murat'ın yaşadığı mahallenin yanı başına bir lastik fabrikası kuruldu. Bu fabrika, bacalarına filtre takmadığı için havayı kirletmeye başladı. Bu nedenle de bölgede solunum yolları hastalıkları arttı. Bu durum bölge halkının evlerinden dışarı çıkamamalarına sebep oldu.

Buna göre Murat'ın hangi hakkı ihlal edilmiştir?

- A) Sağlık hizmetlerinden yararlanma hakkı
- B) Yerleşme hakkı
- C) Sağlıklı bir çevrede yaşama hakkı
- D) Sağlıklı beslenme hakkı

İşleyen Zeka Yayınları

5. Aşağıda ilk çağda Anadolu'da kurulan medeniyetlere ait harita verilmiştir.



Haritaya bakılarak aşağıdaki yargılardan hangisine ulaşamaz?

- A) Anadolu'da birden çok medeniyet kurulmuştur.
- B) Lidyalılar Kral Yolu'nu yaparak ticareti geliştirmiştir.
- C) Hititler Anadolu'nun ortasında kurulmuşlardır.
- D) İyonlar Anadolu'nun batısında hüküm sürmüştür.

6. İnsan eli değmeden, doğada kendiliğinden oluşan, gezilip görülebilecek, eşsiz güzellikteki yerler ve unsurlara “doğal varlık” adı verilmektedir.

Buna göre aşağıda verilen unsurlardan hangisi doğal varlık değildir?



Uzungöl



Peribacaları



Selimiye Cami



Ağrı Dağı

İşleyen Zeka Yayınları

7. Ülkemizde Ege ve Akdeniz kıyılarında zeytinin fazla yetiştirilmesi nedeniyle yemekler zeytinyağı kullanılarak yapılmaktadır. Karadeniz kıyılarında yapılan balıkçılık, buralarda balık yemeklerinin ön plana çıkmasını sağlamıştır. Ülkemizin doğu ve güneydoğu bölgelerinde tarım alanlarının kısıtlı olması hayvancılığın yaygınlaşmasını ve öte yandan bölgede yapılan yemeklerde etin daha çok kullanılmasını sağlamıştır. Bu özellikleri ile ülkemiz farklı yemeklerin yapıldığı zengin yemek kültürüne sahip olan ülkelere göre daha fazladır.

Verilen bilgilere bakılarak ülkemizdeki yemek kültürü ile ilgili aşağıdaki yargılarından hangisine ulaşılabilir?

- A) Yörelere coğrafi özellikleri yemeklerde kullanılan malzemeleri ve yemek türlerini etkiler.
B) Tüm bölgelerin coğrafi özellikleri benzer olduğundan aynı tür yemekler yapılır.
C) Balık yemekleri sadece Karadeniz kıyılarında yenilir.
D) Ülkemizde yapılan yemek çeşitleri diğer ülkelere göre daha fazladır.

İşleyen Zeka Yayınları

8. Ben Nihat, bir şirkette muhasebecilik yapıyorum. Çocuklarımdan küçük olanı ilkökula yeni başladı, büyüğü 3. sınıfa gidiyor. Eve geldiğimde onların ödevlerine yardımcı oluyorum. Eşim ev hanımı. Tüm gün ev işleri ile uğraştığından yoruluyor, ben de eve geldiğimde ona ev işlerinde yardımcı oluyorum. Annem de zaman zaman bizi ziyaret ederek çocuklarım ile ilgileniyor.

Metne göre aşağıdakilerden hangisi Nihat Bey'in üstlendiği rollerden biri değildir?

- A) Eş olmak B) Evlat olmak C) Baba olmak D) Yönetici olmak

9.

23 Nisan Ulusal Egemenlik ve Çocuk Bayramı

Atatürk tarafından tüm çocuklara armağan edilen bugünün anlamı 23 Nisan 1920 yılında Büyük Millet Meclisinin açıldığı tarihtir.



Hıdırellez Bayramı

Hıdırellez ya da Hidrellez, Orta Asya, Ortadoğu, Anadolu ve Balkanlarda kutlanan mevsimlik bayramlardan biridir. Ruz-ı Hızır (Hızır günü) olarak adlandırılan Hıdırellez günü, dünyada darda kalanların yardımcısı olduğu düşünülen Hızır ile denizlerin hâkimi olduğuna inanılan İlyas'ın yeryüzünde buluştuğu gün olarak düşünülür ve kutlanır.

Ramazan Bayramı

Müslümanların iki büyük bayramından biridir. Ramazan ayında tutulan bir aylık orucun bitiminde şevval ayının ilk üç günü Müslümanların bayram günleridir. Ülkemizde ramazan ayının bitimiyle birlikte bu bayram kutlanır.



Bayramlarla ilgili bilgilere bakılarak aşağıdaki yargılardan hangisine ulaşamaz?

- A) Ramazan bayramı dinî bayramlar arasında yer almaktadır.
- B) Geçmişte kutlanan bazı bayramlar günümüzde önemini yitirmiştir.
- C) Ülkemizde millî, dinî ve mevsimlik bayramlar kutlanır.
- D) Hıdırellez bayramı mevsimlik bayramlar arasındadır.

İşleyen Zeka Yayınları

10. Türk kültürüne ve Türk milletine ait, nesilden nesile aktarılan, yaşam tarzlarımızı oluşturan davranışlarımız ve alışkanlıklarımız bulunmaktadır. Bu davranış ve alışkanlıklara gelenek ve görenek adı verilir.

Aşağıda verilen uygulamalardan hangisi bu davranış ve alışkanlıklarımıza örnek gösterilemez?

- A) Asker uğurlama törenleri yapmak
- B) Bayramlarda büyükleri ziyaret etmek
- C) Nişan ve düğün merasimleri düzenlemek
- D) Yılbaşı kutlamaları hazırlamak



1.



1995'te 14 kurt yeniden ABD'de bulunan Yellowstone Millî Parkı'na salındı. O an kimse kurtların bir mucizeye sebep olacağını bilmiyordu. Kurtların gelişiyle geyikler parkın başka bölgelerine kaçmaya başladı. Geyiklerin olmayışı bitkilerin yeniden büyümesi demektir. Birçok kavak ve söğüt ağacı büyümeye başladı. Bu tam da besin zincirinin tetiklendiği ana denk geliyordu. Ağaç ve çalılıkların artışıyla daha çok yemiş ve böcek ortaya çıkmaya başladı. Bu çeşitlilik birçok kuş ve diğer hayvan türlerinin de parka geri dönmesine sebep oldu. Daha önce parkta yok olan kunduzlar geri geldi. Kunduzların odun ve kütüklerle derelerin üzerine yaptıkları engeller nedeniyle oluşan barajlar su samuru, misk sıçanı ve çeşitli sürüngenlerin ilgi odağı oldu. Kurtlar aynı zamanda çakalları da öldürdü. Bu durum fare ve tavşan nüfusunun artmasına sebep oldu. Bu da kızıl tilki, sansar, porsuk ve baykuşların parktaki av sayısını artırmış oldu. Kel kartal türünün de nüfusu arttı. Fakat tüm bunlardan daha da ilginç olanı kurtlar nehrin dahi değişimine sebep oldular. Bitki örtüsünün artışı bölgedeki erozyonu azalttı ve nehir kıyıları yaşama elverişli hâle geldi. Böylece kurtlar Yellowstone Parkı'nın yeni ekosistem denge unsuru olmasının yanı sıra parkın fiziksel değişimine de sebep oldular.

Verilen örnek olay dikkate alındığında olayların özellikleri ile ilgili hangi sonuca ulaşılabilir?

- A) Olayların gerçekleşme sebepleri tek bir nedene bağlanabilir.
- B) Olayların oluşması sebep-sonuç ilişkisi doğrultusunda gerçekleşir.
- C) Olayların ortaya çıkmasının birbirleriyle ilişkisi bulunmaz.
- D) Olayların sonuçları tüm canlıları etkileyebilir.

3. DENEME

2. 5-C sınıfına giden Mert ailesinin en büyük çocuğudur. Mert, evde annesinin verdiği görevleri yapar ve onun sözünü dinler. Ödevlerini zamanında yapar, okulunun müzik kulübünde üyedir aynı zamanda da futbol takımında oynamaktadır.

Bu bilgilere bakılarak Mert ile ilgili aşağıdakilerden hangisi söylenemez?

- A) Rollerine ait sorumlulukları başarılı bir şekilde yerine getirmektedir.
B) Aynı anda birden çok rolü bulunmaktadır.
C) Rollerine ait sorumlulukları bulunmaktadır.
D) Evdeki rolünün gerektirdiği sorumluluklarını yerine getirmektedir.

3. Yurdumuzun değişik bölgelerinde çeşitli el sanatları ile uğraşmaktadır. Gaziantep yöresinde bakırcılık, Kayseri Bünyan'da halıcılık, İznik'te çinicilik ön plandadır.

Buna göre el sanatlarıyla ilgili aşağıdaki ifadelerden hangisi doğrudur?

- A) Bakırcılık sadece Gaziantep yöresinde kullanılmaktadır.
B) El sanatları değişime uğramadan günümüze ulaşmaktadır.
C) Ülkemizin değişik yörelerinde el sanatlarında çeşitlilik görülmektedir.
D) El sanatları alanında yöreler arasında rekabet yaşanmaktadır.

İşleyen Zeka Yayınları

4. Ortak bir amaç için bir araya gelmiş, en az iki ve daha fazla kişiden oluşan, aralarında ilişki ve iş birliği bulunan topluluğa "grup" denmektedir.

Buna göre aşağıdakilerden hangisi grup sayılmaz?



Aile



Halk Oyunları Ekibi



Sınıf



Banka Kuyruğunda Bekleyenler

5. I. Başkentleri Sardes şehrinden başlayıp Ni-nova'ya kadar uzanan "Kral Yolu"nu yaptılar.
II. Dünyanın yedi harikasından biri olarak sayılan "Artemis Tapınağı"nı inşa ettiler.
III. Tapates adı verilen halı ve kilimleri ile ünlüdürler.
IV. Tuşpa (Van) Kalesi günümüze kadar ulaşabilen eserlerindedir.

Yukarıda İlk Çağ medeniyetlerine ait bazı özellikler belirtilmiştir.

Buna göre verilen özelliklerle uygarlıkların doğru eşleştirilmesi hangi seçenekte verilmiştir?

	I	II	III	IV
A)	Lidya	Hitit	Frig	İyon
B)	Hitit	Lidya	Urartu	Frig
C)	Lidya	İyon	Frig	Urartu
D)	Urartu	Lidya	İyon	Hitit


6. Bayramlarımız millî, dinî ve mevsimlik olmak üzere üç kategoriye ayrılmakta, milletçe birlik ve beraberliğimizi güçlendiren, aile, akraba ve arkadaşlarımızla bizleri bir araya getiren kültürel değerlerdir. Milletimizin kutladığı bu bayramlardan bazıları farklı kategoride bulunsalar dahi Türk milletine has özellikler içerdiğinden millî bayram gibi sayılabilirler.

Verilen bilgilere göre aşağıdakilerden hangisi farklı kategoride olup millî özellikler taşıyan bayramlardan biri olamaz?

- A) Nevruz Bayramı
B) 23 Nisan Ulusal Egemenlik ve Çocuk Bayramı
C) Ramazan Bayramı
D) Hıdırellez Bayramı

İşleyen Zeka Yayınları

7. Aşağıdakilerden hangisi ülkemizdeki doğal varlıklardan biridir?




Süleymaniye Camii



Dolmabahçe Sarayı



Efes Antik Kenti



Ağrı Dağı